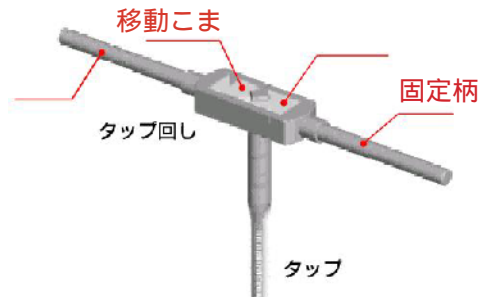


《ねじ切りについて（めねじ切り）》

年	組	番	氏名
---	---	---	----

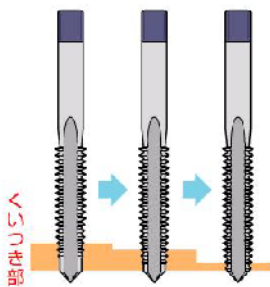
1. タップ回しの各部の名称を（ ）内に書きいれましょう。



()

()

2. めねじ切りの方法について、文章の（ ）にあてはまる語句を、下の答えの（ ）内に書きましょう。選択問題については適当と思われる方を選び書きましょう。

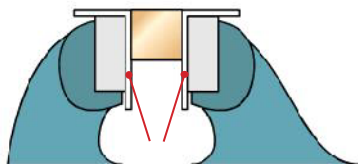


タップは一般的には3本1組で、それぞれ先端の角度が違って
おり、()タップ ()タップ ()タッ
プの順に使用して、めねじ切りをします。

タップ回しの () を回し、移動こまをゆるめ、() をはさ
みこみ、() を逆に回して締め付けます。

万力に()をつけ、材料をはさみこみ、タップと材料が
() になっていることを確認します。

タップを()にし、平均した力を加えて、1/2回転させ、
タップを一度止め、(1/2・1/4)程度戻して切りくずを出し
ます。



めねじが切れたら()がつぶれないように注意しながら、ねじを切るときとは逆に回して、
ゆっくりとタップを材料から抜き取ります。

答え. () () () ()
() () () ()
()

3. 貫通穴でない下穴におねじを切っていて、タップが折れてしまいました。これは、どのような時
に回したのが原因と考えられるでしょうか。
以下の()内に二つ書きましょう。

()

()